




# ATIVIDADE COMPLEMENTAR MATEMÁTICA



**Ensino Fundamental: 3º ao 5º ano**

**MEDIDA DE TEMPO - ESTUDANDO O CALENDÁRIO**



**Na aula de hoje iremos aprender a:**

- ✓ **Compreender o intervalo de tempo entre datas.**
- ✓ **Estabelecer relação entre unidades de tempo – dia, semana, mês e ano, consultando calendários.**

# Olá, criança! Tudo bem?



**Mais uma semana de estudos em casa, esperamos que esteja gostando das atividades.**

**Elas são feitas com muito carinho para você resolver da melhor maneira que souber, junto com seus familiares.**



Você lembra que nas atividades anteriores estudamos medidas de **comprimento, massa, capacidade**? Lembra? Desejamos que tenha aprendido muito e acertado todas as atividades. Não esqueça de que seu esforço em estudar é muito importante para o seu aprendizado. Continue assim!

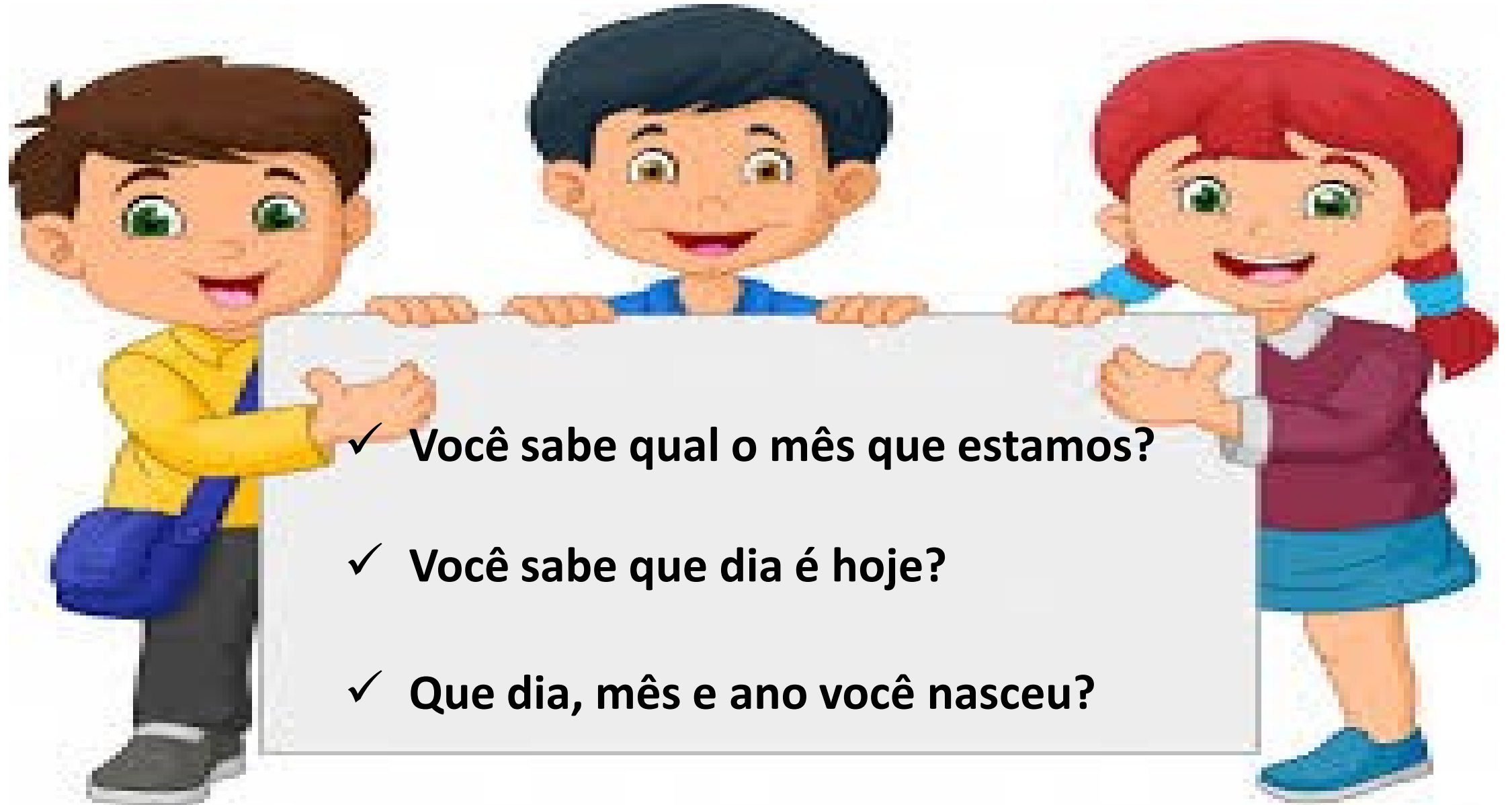


**NA ATIVIDADE DE HOJE, IREMOS RELEMBRAR  
OUTRA MEDIDA. ELA FAZ PARTE DA NOSSA VIDA.  
É A MEDIDA DE TEMPO.**

**EXISTE OS INSTRUMENTOS DE MEDIR O TEMPO,  
COMO RELÓGIO, CALENDÁRIO ETC. HOJE VAMOS  
ESTUDAR O CALENDÁRIO. ESTE É UM  
IMPORTANTE INSTRUMENTO DE MEDIR O  
TEMPO. VOCÊ LEMBRA DE COMO USAR UM?**



**Então vamos começar...**





- ✓ **Você sabe qual o mês que estamos?**
- ✓ **Você sabe que dia é hoje?**
- ✓ **Que dia, mês e ano você nasceu?**



## Medida de Tempo!!

A **medida de tempo** é a grandeza utilizada para medir as diversas formas de contar o tempo.

O tempo é medido por diferentes unidades de medidas, assim, determinamos dias, semanas, meses, anos e século. Podemos observar que toda atividade realizada utiliza uma medida de tempo: a hora que acorda, qual é o dia da semana, saber o dia, mês e ano que nascemos. Enfim, todas as atividades que se realizam durante o dia, a refeição, jogar, assistir um programa de TV e etc...



**1. Agora, vamos escrever mais um pouquinho no caderno?  
Responda algumas perguntas.**

Que dia da semana é hoje? \_\_\_\_\_

E ontem? Que dia da semana foi? \_\_\_\_\_

E a manhã, que dia da semana será? \_\_\_\_\_



# **Vamos aprender mais sobre o calendário...**

**O calendário é um dos instrumentos que serve para medir o tempo, ele nos orienta sobre o ano, os meses, as semanas e o dia do mês.**

# Contagem do tempo

## O CALENDÁRIO

Para facilitar a contagem do tempo os homens inventaram o calendário

### AGOSTO 2020

DOM	SEG	TER	QUA	QUI	SEX	SÁB
						1
2	3	4	5	6	7	8
9	10	11	12	13	14	15
16	17	18	19	20	21	22
23	24	25	26	27	28	29
30	31					

calendar-page.com

- ✓ Um ano tem 365 dias.
- ✓ Um ano é dividido em doze meses.
- ✓ Um mês pode ter 30 dias (abril, junho, setembro e novembro) ou 31 dias (janeiro, março, maio, julho, agosto, outubro e dezembro).
- ✓ O mês de fevereiro tem 28 dias .
- ✓ Quando o mês de fevereiro tem 29 dias, o ano será bissexto com 366 dias. Isso acontece de 4 em 4 anos.

# Conheça mais sobre o tempo...



O ano tem doze meses: janeiro, fevereiro, março, abril, maio, junho, julho, agosto, setembro, outubro, novembro e dezembro

O mês é dividido por semanas.

Cada semana tem sete dias:

Domingo, segunda-feira, terça-feira, quarta-feira, quinta-feira, sexta-feira e sábado.

**Agora, você irá fazer umas atividades bem legais!  
Não esqueça de registrar em seu caderno.**





Complete com base nas informações lidas.

a) O mês e o ano são unidades de medida de

\_\_\_\_\_

b) Um ano tem \_\_\_\_\_ meses.

c) Um mês pode ter \_\_\_\_\_, \_\_\_\_\_, \_\_\_\_\_ ou \_\_\_\_\_ dias.

Faça as atividades  
com muita atenção,  
em seu caderno.



De acordo com o calendário responda:

AGOSTO						2020
DOM	SEG	TER	QUA	QUI	SEX	SÁB
						1
2	3	4	5	6	7	8
9	10	11	12	13	14	15
16	17	18	19	20	21	22
23	24	25	26	27	28	29
30	31					

calendar-page.com

- Quantos dias tem esse mês? \_\_\_\_\_
- Quantos dias de aula? \_\_\_\_\_
- Em que dia da semana cairá o último dia do mês? \_\_\_\_\_
- Quantos sábados há neste mês? \_\_\_\_\_
- Em que dia caiu o 1º domingo? \_\_\_\_\_
- Quantos meses faltam para o mês em que comemoramos o Natal \_\_\_\_\_

## Continue fazendo as atividades com muito zelo e atenção

A mãe de Rafael fez uma festinha de aniversário para ele no dia 9 de maio de 2011. Veja como ele anotou em sua agenda: **09/05/11** .

Veja mais esses exemplos e faça o mesmo nas demais datas.

**16 de junho de 2018**



**16/06/18**

**21/04/98**



**21 de abril de 1998**

- a) 17 de fevereiro de 1999 \_\_\_\_\_
- b) 7 de setembro de 2000 \_\_\_\_\_
- c) 15/03/12 \_\_\_\_\_
- d) 31/12/10 \_\_\_\_\_
- e) O dia de hoje: \_\_\_\_\_/\_\_\_\_\_/\_\_\_\_\_ ou \_\_\_\_\_
- f) Seu nascimento \_\_\_\_\_

**Preciso fazer as  
atividades no caderno  
com muita atenção!**



Paula, Laura e Giovana fazem aniversário no mesmo mês: Paula em 12/09, Laura uma semana antes de Paula e Giovana dez dias depois de Laura. Indique a data de aniversário de cada uma.

- a) Paula → \_\_\_\_\_ ou \_\_\_\_\_ de \_\_\_\_\_
- b) Laura → \_\_\_\_\_ ou \_\_\_\_\_ de \_\_\_\_\_
- c) Giovana → \_\_\_\_\_ ou \_\_\_\_\_ de \_\_\_\_\_




## Retorne ao calendário do mês de agosto resolva as situações-problemas.

Marta mandou uma carta para sua amiga Maria Eduarda, na segunda-feira, dia 3 de agosto, pela parte da manhã. Sabendo que a carta chegará daqui a 12 dias devido aos feriados, que data e dia da semana a carta chegará?

Responda no seu caderno.

Vítor faz aulas de futebol toda quinta-feira. Quantas aulas de futebol ele irá fazer neste mês?

Responda no seu caderno .



**AMIGUINHO,  
CHEGAMOS AO FIM DE MAIS UMA ATIVIDADE!**

**ESPERAMOS QUE TENHAS APRENDIDO  
MUITO NA AULA DE HOJE.**

**ATÉ A PRÓXIMA  
SEMANA.**



**E NÃO ESQUEÇA,  
FIQUE EM CASA !**

